

Politische Bildung


SJ 2022-2023





Schulinterner Wettbewerb

Fachoberschule für Landwirtschaft Auer


Triennium

Name, Nachname	
Schule, Klasse	
Abgabezeit	
Punkte / Rang	

1.1		<p>Das Jahr 1922 war für Italien und Südtirol, das gerade erst dem italienischen Staatsgebiet einverleibt worden war, ein folgenschweres Jahr. Im Monat Oktober fanden einige Machtdemonstrationen der Faschisten statt, von denen zwei später unter den Namen „Marsch auf Bozen“ und „Marsch auf Rom“ in die Geschichte eingingen. Was waren die jeweiligen Folgen dieser beiden Märsche?</p>	4 P
<hr/> <hr/>			

1.2	Wer sind diese Landespolitiker*innen (es genügt der Nachname) und welcher Partei gehören sie jeweils an?				8 P
					

1.3	<div data-bbox="252 1489 782 1668" style="text-align: center;">  <p>Südtiroler Landtag Consiglio della Provincia autonoma di Bolzano Cunsèi dla Provinzia autonoma de Bulsan</p> </div> <p>Von welchen Fraktionen des Landtages wird die Landesregierung derzeit getragen? Nenne beide Landtagsfraktionen bzw. Parteien.</p> <hr/>	4 P
-----	---	-----

1.4		<p>Der Umgang mit der COVID-Pandemie hat sich geändert. Seit dem 1. Oktober ist die Maskenpflicht mit wenigen Ausnahmen abgeschafft. Dennoch sollte nicht in Vergessenheit geraten, dass während der Hochphase der Pandemie die Bewegungsfreiheit eingeschränkt wurde. Wie ist das Verhältnis zwischen Bewegungsfreiheit und Gesundheit in der italienischen Verfassung geregelt?</p>	3 P
-----	---	---	-----


1.5	<p>Hier sind einige Stationen der Geschichte Südtirols durcheinandergeraten. Versuche die richtige Reihenfolge wieder herzustellen und füge in die folgenden Kästchen die richtige Kombination ein.</p>					6 P
a	b	c	d	e	f	

a) 1919
b) 1946
c) 1948
d) 1957
e) 1972
f) 1992

1) Gruber-Degasperi-Abkommen
2) Zweites Autonomiestatut
3) Streitbeilegungserklärung von Österreich und Italien vor der UNO
4) Kundgebung „Los von Trient“ auf Schloss Sigmundskron
5) Trentino-Südtirol wird bei den Friedensverhandlungen Italien zugeschlagen.
6) Erstes Autonomiestatut


1.6	<p>Erkläre in Stichworten, warum die deutschsprachige (und ladinischsprachige) Bevölkerung Südtirols mit dem ersten Autonomiestatut nicht zufrieden war.</p> <hr/> <hr/> <hr/>	4 P
-----	--	-----


1.7	<p>Bis in die 60er-Jahre war die SVP im wahrsten Sinne des Wortes die Sammelpartei für die deutschsprachige Bevölkerung Südtirols, während die italienischsprachige Parteienlandschaft vielfältiger war. In der Zwischenzeit stehen auch der deutschsprachigen Bevölkerung verschiedene Parteien zur Auswahl. Nenne hier zwei Parteien (ausgenommen SVP), die mehrheitlich die deutschsprachige Wählerschaft ansprechen.</p> <hr/>	4 P
-----	--	-----


2.1		<p>Diese Region ist mit mehr als 4,35 Millionen Einwohnern eine der bevölkerungsreicheren Regionen Italiens. Sie liegt in Norditalien. In dieser Region leben einige alteingesessene sprachliche Minderheiten Italiens, dennoch hat die Region keine Autonomie. Von dieser Region ging die Einigung Italiens aus und die Hauptstadt dieser Region war auch die erste Hauptstadt des Königreichs Italien. In dieser Region hatte die Automobilfabrik FIAT ihren Ursprung. Um welche Region handelt es sich?</p> <p>_____</p>	3 P
-----	---	---	-----

2.2	<p>Das Verfassungsgericht hat verschiedene Aufgaben. Gib an, welche der folgenden Aufgaben in seinen Kompetenzbereich fallen und welche nicht (ja / nein).</p>	5 P
Die Kontrolle der Regierung.		
Die Gesetzgebung.		
Die Wahl des Präsidenten der Republik (Staatsoberhaupt).		
Das Urteilen über Kompetenzstreitigkeiten zwischen Verfassungsorganen.		
Die Entscheidung über die Zulassung von Volksabstimmungen (Referenden)		


2.3		<p>In der Verfassung der Republik Italien ist vorgesehen, dass nicht alle Institutionen zum gleichen Zeitpunkt gewählt werden. Darum wurden für die verschiedenen Institutionen verschiedene Amtsperioden vorgesehen. Fülle dazu den folgenden Lückentext aus.</p> <p>Die Legislaturperiode beider Kammern des Parlaments beträgt höchstens _____ Jahre.</p> <p>Die Amtszeit eines Präsidenten der Republik erreicht hingegen _____ Jahre. Die Verfassungsrichter werden auf _____ Jahre gewählt.</p>	6 P
-----	---	---	-----




2.4		<p>Giorgia Meloni ist seit Oktober 2022 die neue Ministerpräsidentin Italiens als Folge des Wahlsieges der Mitte-rechts-Koalition. Aus welchen Parteien besteht diese Koalition? Nenne mindestens drei davon.</p> <p>_____</p> <p>_____</p>	6 P
-----	---	---	-----


2.5		<p>Im September 2022 fanden in Italien Parlamentswahlen statt. Dabei kamen auch die Verfassungsneuerungen der letzten Jahre zum Tragen. Fülle dazu den folgenden Lückentext aus:</p> <p>Bisher hatte die Abgeordnetenkammer _____ Mitglieder, doch die neue Kammer hat nur noch _____. Bisher hatte der Senat _____ gewählte Mitglieder zuzüglich der Senatoren auf Lebenszeit, doch nun hat er nur noch _____ Mitglieder zuzüglich der Senatoren auf Lebenszeit. Um das aktive Wahlrecht auszuüben, muss man für die Wahl des Senats _____ Jahre alt sein, während man bisher _____ Jahre alt sein musste.</p>	6 P
-----	---	---	-----

2.6		<p>Hier siehst du eine Landkarte Italiens, wobei dir sicher auffällt, dass Italien größer als heute ist. In welchem Zeitraum (zwischen welchen historischen Ereignissen) hatte Italien dieses geographische Ausmaß?</p> <p>_____</p>	3 P
-----	---	--	-----

3.1	<p>Dieser Mitgliedstaat der EU kam im Zuge der Osterweiterung im Jahre 2004 dazu. In den letzten Jahren haben sich in diesem Staat nationalistische Tendenzen gezeigt und es wurden Reformen getätigt, die zu Konflikten mit der EU führten, weil sie die Gewaltenteilung missachteten. Dennoch muss festgehalten werden, dass gerade dieser Staat die meisten Flüchtlinge aus der Ukraine aufgenommen hat. Dieser Staat war auch jener Staat, der im zweiten Weltkrieg unter der Naziherrschaft stark zu leiden hatte, wovon die vielen Konzentrationslager zeugen, nicht zuletzt das Vernichtungslager von Auschwitz-Birkenau.</p> <p>Dieser Staat ist _____</p>	3 P
-----	--	-----

3.2		<p>Die EU ist in eine beispiellose Energiekrise geraten, da Russland die Ukraine angegriffen hat und die Lieferung von Gas als Druckmittel einsetzt. Allerdings steuert die EU vehement dagegen.</p> <p>Gib an, welche Aussagen bezüglich der Energiekrise wahr (W) sind und welche falsch (F).</p>	6 P
a)	Deutschland hat sich zu sehr auf Russland eingelassen und zu Beginn des Ukrainekrieges etwa 50% der Gaslieferungen aus Russland bezogen.		W - F
b)	Die italienische Regierung unter Mario Draghi hat sehr schnell auf die Energiekrise reagiert und innerhalb weniger Monate alternative Energielieferanten gefunden.		W - F
c)	Die USA haben ihre Hilfe angeboten und werden nun anstatt Russland und billiger als Russland über Schiffstransport Flüssiggas der EU liefern.		W - F
d)	Die Gasspeicher der EU-Staaten Deutschland, Frankreich und Italien sind nahezu voll und sollten eine Überwinterung mit keinen großen Energieeinschränkungen ermöglichen.		W - F
e)	Die Gaspreise sind seit dem 24.02.2022 stark gesunken.		W - F
f)	Derzeit ist der Anteil der Gaslieferungen aus Russland unter 10% des Gesamtverbrauchs der EU gesunken.		W - F

3.3	Wer ist wer in der EU? Gib Namen (es genügt der Nachname) und Amt an.		6 P
			

3.4		<p>Am 9. Oktober 2022 fand in Österreich die Bundespräsidentenwahl. Der scheidende Präsident erhielt bereits im ersten Wahlgang mehr als die Hälfte der gültigen abgegebenen Stimmen und wurde daher wiedergewählt. Wie heißt der Bundespräsident unseres Nachbarlandes Österreich?</p> <p>_____</p> <p>Wie lange ist die Amtsperiode eines österreichischen Bundespräsidenten? _____</p> <p>Könnte der amtierende Bundespräsident bei den nächsten Präsidentschaftswahlen kandidieren?</p> <p>_____</p>	6 P
-----	---	--	-----

3.5

Trage in die Europakarte die Namen folgender Staaten ein: Deutschland, Portugal, Bulgarien, Ukraine, Finnland

5 P




Das Land befindet sich in Asien. Mit etwa 1,42 Milliarden Einwohnern ist dieser Staat der zweitbevölkerungsreichste der Erde und wird wahrscheinlich 2023 der bevölkerungsreichste werden. Die bevölkerungsreichste Stadt ist Mumbai (früher Bombay), sie ist allerdings nicht die Hauptstadt. Das Gebiet dieses Staates unterstand lange Zeit europäischen Kolonialmächten.





4.1 Um welches Land handelt es sich?

Welche Kolonialmacht Europas war in diesem Raum vorherrschend?


4 P

4.2		<p>Die Fußballweltmeisterschaft 2022 in Katar ist wohl die umstrittenste aller Zeiten. Man wirft dem Staat Menschenrechtsverletzungen, Einschränkungen der Frauenrechte und Verbot von Homosexualität vor, doch auch das Kafala-System Katars erntete heftige Kritik.</p> <p>Was sieht das umstrittene Kafala-System vor?</p>	4 P


4.3		<p>Im November 2022 fand in Scharm-el-Sheikh die COP27 statt. Obwohl die Ergebnisse hinter den Erwartungen zurückblieben, konnte ein Ausgleichsfonds vereinbart werden. Worum geht es bei diesem Ausgleichsfonds?</p>	3 P


4.4		<p>Fast 50 Jahre lang gab es in den USA eine bundesweite Regelung für das Recht auf Schwangerschaftsabbruch. Nun hat der Supreme Court der USA es gekippt. Was bedeutet das konkret? Kreuze die richtige Antwort an.</p>	2 P
a)		Es gelten wieder die Abtreibungsregelungen der einzelnen Bundesstaaten (Kalifornien, Alabama, Texas ...).	
b)		In den USA ist die Abtreibung nun eine Straftat.	
c)		In den USA stellt die Abtreibung zwar keine Straftat dar, ist aber unzulässig.	

4.5		<p>Obwohl vor allem in der westlichen Welt die Geburtenraten ein historisches Tief erreicht haben, wächst die Weltbevölkerung ständig. Im November 2022 erreichte die Weltbevölkerung die Marke der ...</p> <p>_____ Milliarden Menschen.</p>	2 P
-----	---	---	-----

4.6		<p>Im Oktober 2022 fanden die Präsidentschaftswahlen in Brasilien statt. Wie hießen die beiden Präsidentschaftskandidaten bei der Stichwahl? (Nachname genügt)</p> <hr/> <p>Wer konnte sich letztendlich durchsetzen?</p> <hr/>	4 P
-----	---	---	-----

4.7	<p>An jedem letzten Samstag im November (heuer am 26.11.) gedenkt die Ukraine des verheerenden Holodomor der Jahre 1932/1933. Was versteht man unter diesem Begriff? Kreuze die richtige Antwort an!</p>	2 P
a)	<p>Der damalige Sowjetdiktator Josef Stalin führte gezielt eine Hungersnot in der Ukraine herbei. Dabei starben geschätzt bis zu vier Millionen Menschen.</p>	
b)	<p>Der damalige Revolutionsanführer Lenin ließ eine Zwangsumsiedlung aus der Ukraine nach Russland von geschätzt sieben Millionen Menschen durchführen.</p>	
c)	<p>Der damalige Vorsitzende der Kommunistischen Partei der Sowjetunion, Juri Wladimirowitsch Andropov, veranlasste die Ansiedelung stark verschmutzender Industrieanlagen im rohstoffreichen Gebiet des Donbass ohne Rücksicht auf die Umwelt, wodurch das wichtigste Binnengewässer, der Holodomor, verseucht wurde und heutzutage als biologisch tot gilt. Seitdem wird eine Umweltkatastrophe als Holodomor bezeichnet.</p>	
d)	<p>Als Holodomor bezeichnet man die Umweltkatastrophe und Verseuchung ukrainischer Landesteile als Folge der Reaktorexpllosion im sowjetischen Atomkraftwerk Tschernobyl, das sich in der heutigen Ukraine befindet.</p>	

4.8		<p>Europa stöhnt unter der hohen Inflation, die wir seit einigen Monaten erfahren. Kreuze diesbezüglich an, welche der folgenden Aussagen wahr (W) und welche falsch (F) sind.</p>	7 P
a)	<p>Die Inflation ist eine Geldwertschwankung, wodurch das Geld an Wert verliert.</p>	W - F	
b)	<p>Die Inflation ist eine Geldwertschwankung, wodurch das Geld an Wert gewinnt.</p>	W - F	
c)	<p>Die Inflation, unter der Europa leidet, wurde unter anderem durch die Energiekrise ausgelöst.</p>	W - F	
d)	<p>Inflation kann durch eine restriktive Geldpolitik bekämpft werden.</p>	W - F	
e)	<p>Inflation kann durch eine expansive Geldpolitik bekämpft werden.</p>	W - F	
f)	<p>Die Senkung des Leitzinses führt im Normalfall zu einer niedrigeren Inflation.</p>	W - F	
g)	<p>Die Erhöhung der Löhne führt im Normalfall zu einer niedrigeren Inflation.</p>	W - F	

<p>4.9</p>		<p>Im November 2022 fanden die <i>Midterm elections</i> in den USA statt. Sie gelten als wichtiger Gradmesser über die Zufriedenheit des US-Volkes mit dem amtierenden Präsidenten der Vereinigten Staaten.</p> <p>Wie heißen die zwei großen Parteien der USA, die um die Mehrheit in den Kammern des Parlaments (<i>Congress</i>) gegeneinander antraten?</p> <hr/> <p>Welcher Partei gehört der amtierende Präsident der USA an? _____</p> <p>Wie heißen die beiden Kammern des US-Parlaments (Kongress der Vereinigten Staaten – <i>US-Congress</i>)?</p> <hr/>	<p>5 P</p>
------------	---	---	------------

<p>4.10</p>		<p>Die Türkei stöhnt unter der hohen Inflation. Trotzdem hat die türkische Notenbank Ende November erneut den Leitzins gesenkt. Es ist die vierte Leitzinssenkung in Folge.</p> <p>Welche Folgen haben diese Leitzinssenkungen für den Binnenwert der Türkischen Lira?</p> <hr/> <p>Welche Folgen haben diese Leitzinssenkungen für den Außenwert der Türkischen Lira und somit auf die Exporte der Türkei?</p> <hr/>	<p>6 P</p>
-------------	--	---	------------